
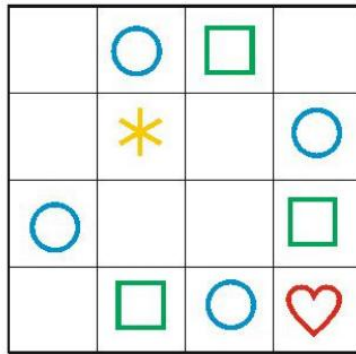

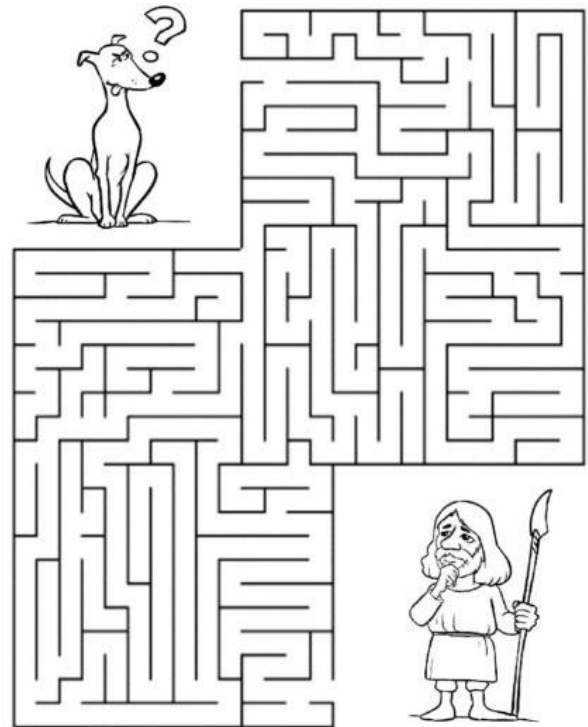


NEBOJÍME SE PŘEMÝŠLET 😊



$$\begin{aligned}
 & \text{teal monster} + \text{teal monster} = 10 \\
 & \text{orange monster} + \text{purple monster} = 12 \\
 & \text{purple monster} + \text{purple monster} + \text{teal monster} = 11 \\
 & \text{orange monster} + \text{purple monster} + \text{teal monster} =
 \end{aligned}$$

$$\begin{aligned}
 & \text{apple} + \text{apple} + \text{apple} = 30 \\
 & \text{apple} + \text{bananas} + \text{bananas} = 20 \\
 & \text{bananas} - \text{coconut} = 3 \\
 & \text{coconut} + \text{apple} + \text{bananas} = ?
 \end{aligned}$$



Kdo stojí vedle koho na karnevale?

1. Baletka nestojí vedle prince.
2. Pirát je úplně vlevo.
3. Rytíř stojí mezi baletkou a princem.
4. Baletka a pirát stojí vedle sebe.
5. Princ nestojí vedle baletky.

