

DEN STROMŮ – projektový týden

1. Jana nasbírala 40 žaludů. Ivan nasbíral o 4 žaludy více než Jana. **Kolik žaludů nasbíral Ivan?**

Výpočet:



Odpověď: _____

- Ruda nasbíral o 2 žaludy méně než Jana. **Kolik žaludů nasbíral Ruda?**

Výpočet:



Odpověď: _____

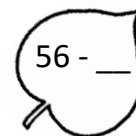

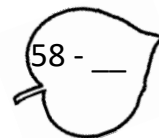
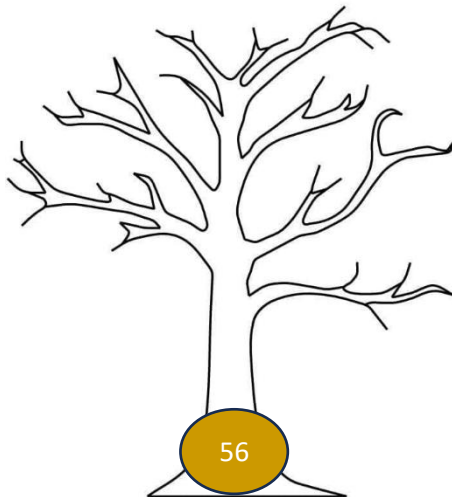


2. Ondra přinesl do školy 23 listů. Pavel přinesl o pět listů méně. **Kolik listů přinesl Pavel?**

Výpočet:

Odpověď: _____



3. Doplň čísla do příkladů na listech tak, aby výsledkem bylo číslo v kmeni stromů.



4. Porovnej

64 ○ 65

59 ○ 58

57 ○ 75

76 ○ 67

31 + 8 ○

12 + 6

76 - 2 ○

78 - 5

57 - 3 ○

52 + 5

32 + 6 ○

40 - 4

Bonusové úkoly

Do prázdných listů doplň správné číslo, které se hodí do dané číselné řady.

a) 1 2 4 7 11 16

b) 1 3 6 4 9 10

Do „sudoku“ doplň chybějící listy tak, aby se každá barva objevila v každém řádku, sloupci a bloku pouze jednou.

		green		red	
green	orange		green	yellow	
	green	dark red	yellow		green
yellow		orange	dark red	green	
	red	yellow		dark red	green
	dark red		red		

Bonusové úkoly

Do prázdných listů doplň správné číslo, které se hodí do dané číselné řady.

a) 1 2 4 7 11 16

b) 1 3 6 4 9 10

Do „sudoku“ doplň chybějící listy tak, aby se každá barva objevila v každém řádku, sloupci a bloku pouze jednou.

		green		red	
green	orange		green	yellow	
	green	dark red	yellow		green
yellow		orange	dark red	green	
	red	yellow		dark red	green
	dark red		red		

Bonusové úkoly

Do prázdných listů doplň správné číslo, které se hodí do dané číselné řady.

a) 1 2 4 7 11 16

b) 1 3 6 4 9 10

Do „sudoku“ doplň chybějící listy tak, aby se každá barva objevila v každém řádku, sloupci a bloku pouze jednou.

		green		red	
green	orange		green	yellow	
	green	dark red	yellow		green
yellow		orange	dark red	green	
	red	yellow		dark red	green
	dark red		red		